

WELLAND GOULDSMITH SCHOOL

REVISION WORKSHEET

CLASS KG

SUBJECT- ARITHMETIC

1) Write numbers 51-100

TO	TO	TO	TO	HTO
—	—	—	—	—
—	—	—	—	—
—	—	—	—	—
—	—	—	—	—
—	—	—	—	—
—	—	—	—	—
—	—	—	—	—
—	—	—	—	—
—	—	—	—	—
—	—	—	—	—

2) Fill in the before, after and between numbers.

	TO	TO	TO
a)	—	8	—
b)	21	—	—
c)	34	—	36
d)	—	—	43
e)	15	—	—






3) Write the number names for the following

	TO
a)	7 _____
b)	36 _____
c)	21 _____
d)	50 _____
e)	18 _____

4) Count backwards 20-1

TO	TO
—	—
—	—
—	—
—	—
—	—
—	—
—	—
—	—
—	—
—	—

5) Count the objects and write.

	<input type="text"/>
	<input type="text"/>
	<input type="text"/>
	<input type="text"/>
	<input type="text"/>